

ΖΗΤΟΥΜΕΝΟ:

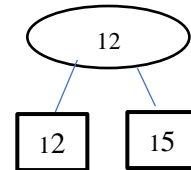
Εισάγετε τα στοιχεία 15 12 9 45 21 67 10 σε ένα (2,4) δένδρο.

Τα δέντρα που προκύπτουν είναι τα ακόλουθα:

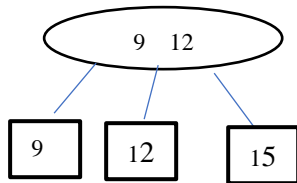
Βήμα 1



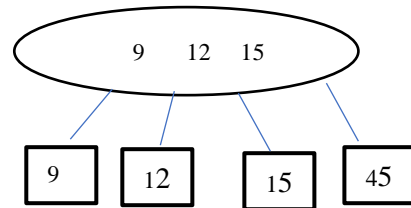
Βήμα 2



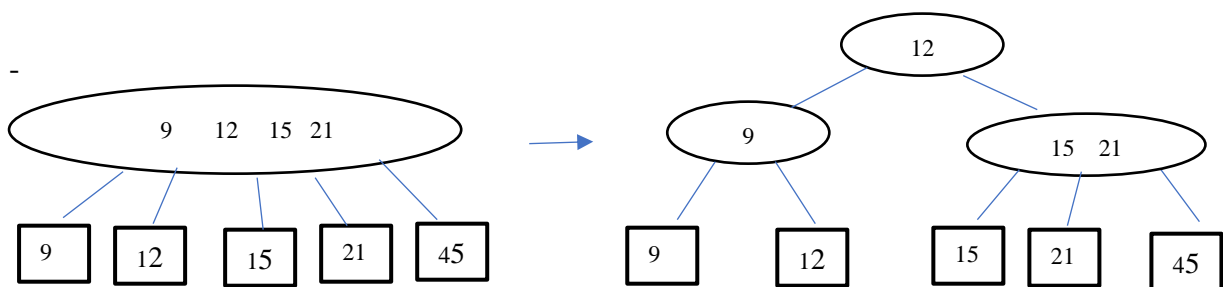
Βήμα 3



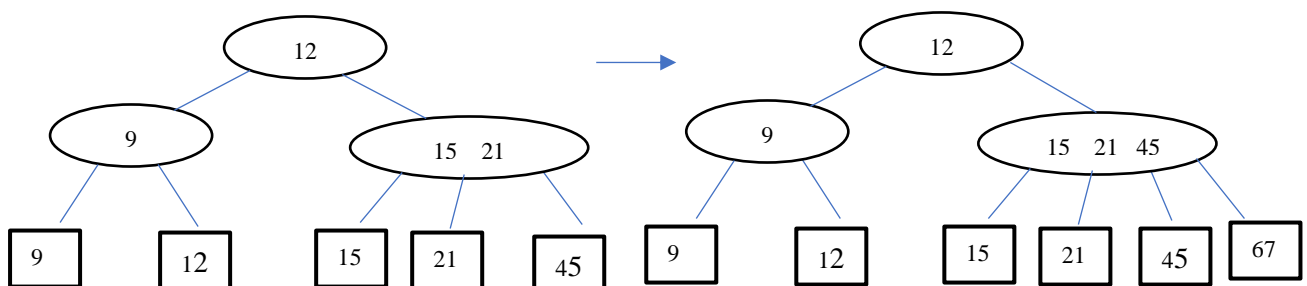
Βήμα 4



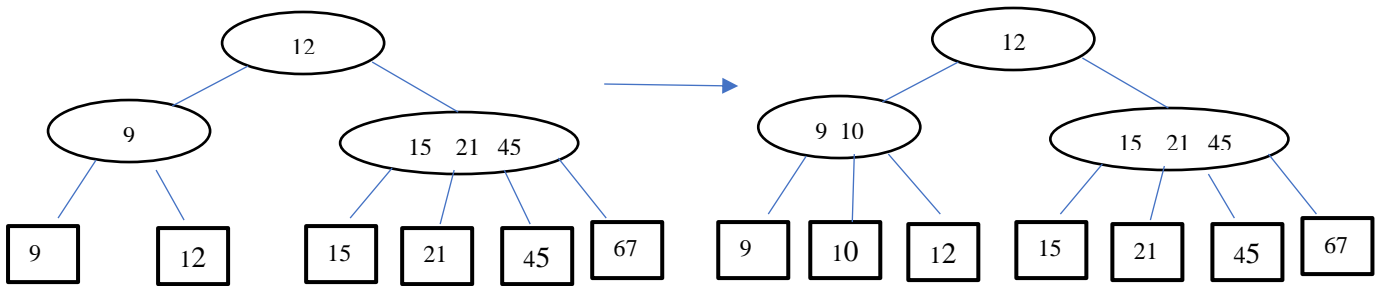
Βήμα 5



Βήμα 6

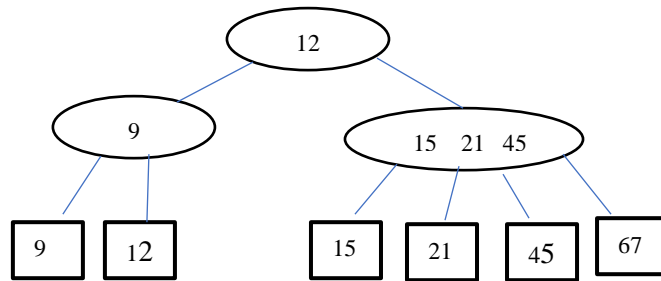


Βήμα 7

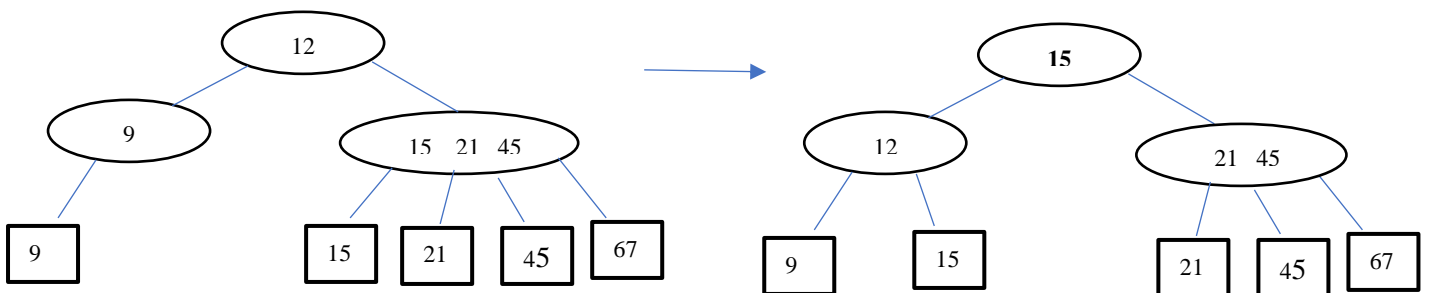


ΖΗΤΟΥΜΕΝΟ: διαγράψτε το στοιχεία 10, 12, 15

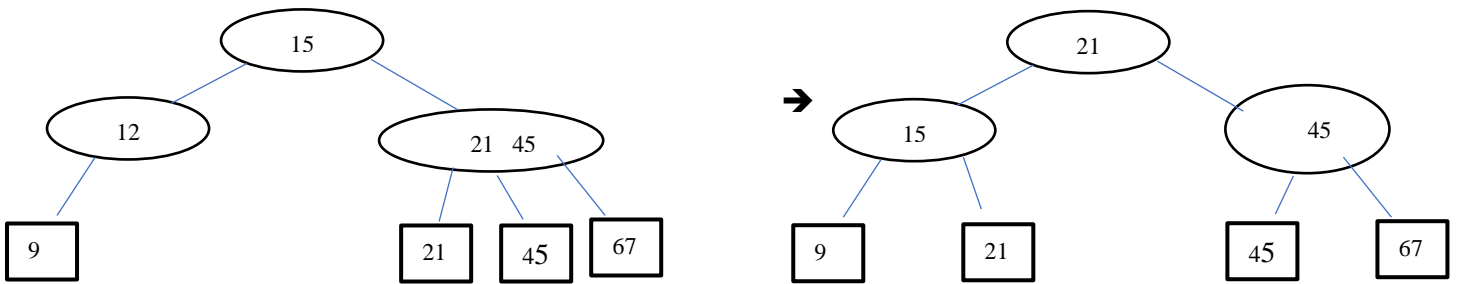
ΔΙΑΓΡΑΦΗ 10



ΔΙΑΓΡΑΦΗ 12



ΔΙΑΓΡΑΦΗ 15 (ΜΕ ΒΑΣΗ ΒΙΒΛΙΟ Κ. ΤΣΑΚΑΛΙΔΗ ΚΑΙ ΚΛΑΣΣΙΚΟ ΟΡΙΣΜΟ):



**ΜΙΑ ΑΛΛΗ ΕΠΙΛΟΓΗ (ΠΟΥ ΟΔΗΓΕΙ ΣΕ ΚΑΛΥΤΕΡΗ ΣΥΜΠΙΕΣΗ ΧΩΡΟΥ
(1 γεματος αντι 2 μισογεματος κόμβοι) ΑΛΛΑ ΔΕΝ ΑΚΟΛΟΥΘΕΙ ΤΟΝ
ΑΡΧΙΚΟ ΠΡΟΤΥΠΟ ΟΡΙΣΜΟ ΤΟΥ (2,4) δένδρου ΕΙΝΑΙ Η):**

